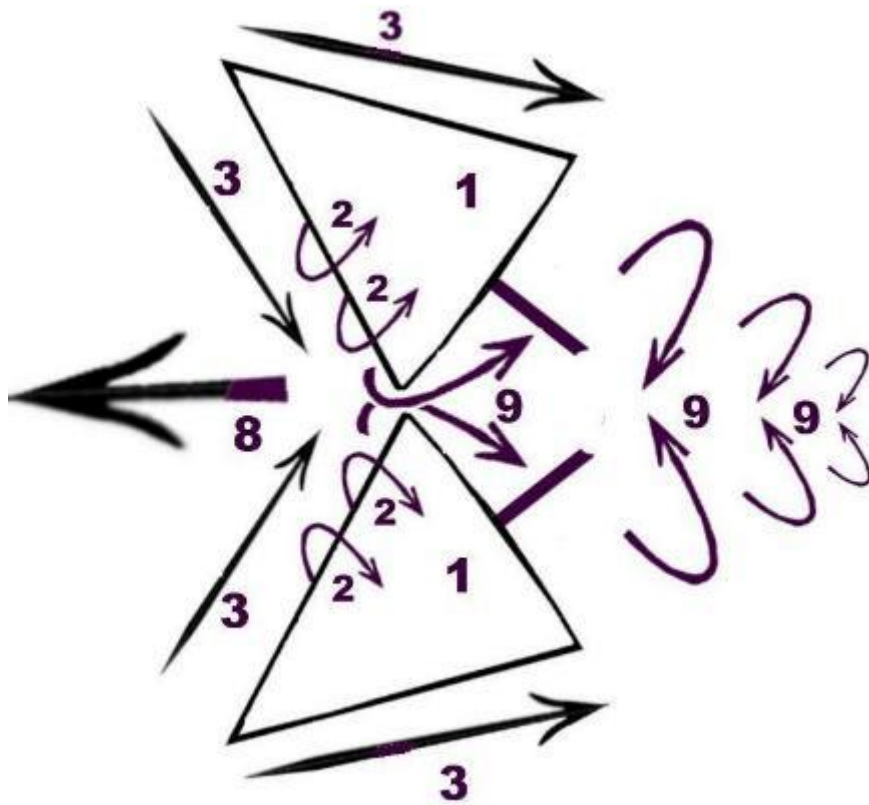


Mekanik del 2 - föreläsninganteckningar

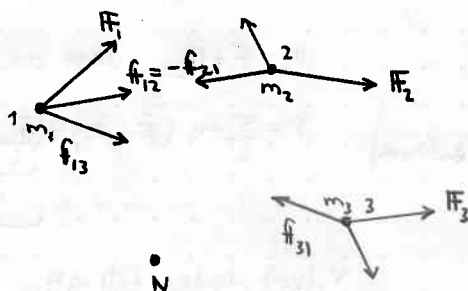
Till er från Philip Krantz



Föreläsning 1

Partikelsystem

Ett partikelsystem består av yttre- och inre krafter enligt följande figur.



I figuren står F_i för yttre krafter och f_i för inre krafter. För $i = 1, \dots, N$

En stel kropp har 6 frihetsgrader.

Rörelseekvationen för partikel nr i :

$$m_i \ddot{r}_i = F_i + f_i$$

Men enligt Newtons 3:e lag är $\sum_i f_i = 0$, vilket ger

$$\sum_i m_i \ddot{r}_i = \sum_i F_i = F \quad (\text{Totala kraften})$$

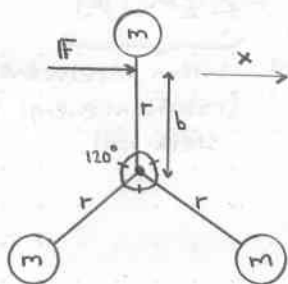
För masscentrum gäller:

$$\ddot{r} = \frac{\sum_i m_i \ddot{r}_i}{\sum_i m_i} \quad \text{där } \sum_i m_i = m$$

$$m\ddot{a} = F$$

"Masscentrum beter sig som en partikel med massa m under påverkan av totala (yttre) kraften F ."

Sample Problem 4/1



Bestäm masscentrums acceleration samt systemets vinkelacceleration i detta ögonblick.

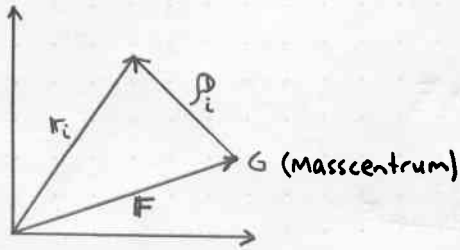
$$\ddot{a}_1 = \frac{F}{3m} = \frac{F}{3m} \hat{x}$$

Lägg detta tänkande med partikelsystem på minnet.

Det används även för stela kroppar.

Total rörelsemängd

$$P = \sum_{i=1}^N m_i \dot{r}_i \quad \dot{P} = F$$



Vi har följande samband:

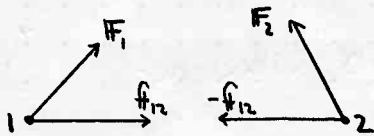
$$r_i = F + p_i \quad \text{läge rel. G}$$

$$P = \sum_i m_i (\dot{F} + \dot{p}_i) = \underbrace{\left(\sum_i m_i\right)}_m \dot{F} + \underbrace{\sum_i m_i \dot{p}_i}_{\frac{d}{dt} \sum_i m_i p_i}$$

Vilket leder till att:

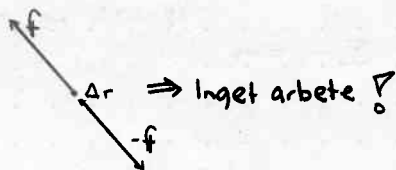
$$P = m \dot{F}$$

Energi och arbete



Inre krafter kan också utföra arbete. Men inte i en stel kropp.

dvs.



Även sant för

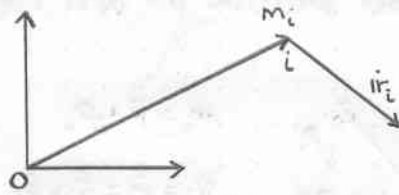


Kinetisk energi för partikelsystem

$$T = \sum_i \frac{1}{2} m_i |\dot{r}_i|^2 = \sum_i \frac{1}{2} m_i \dot{r}_i \cdot \dot{r}_i = \sum_i \left(\frac{1}{2} m_i (\dot{F} + \dot{p}_i) \cdot (\dot{F} + \dot{p}_i) \right) =$$

$$= \sum_i \frac{1}{2} m_i \dot{F}^2 + \sum_i m_i \dot{p}_i \cdot \dot{F} + \sum_i \frac{1}{2} m_i |\dot{p}_i|^2 = \underbrace{\frac{1}{2} m \dot{F}^2}_{\text{translations energi}} + \underbrace{\sum_i \frac{1}{2} m_i |\dot{p}_i|^2}_{\text{Intern rörelseenergi (rotationsenergi för stelkropp)}}$$

Rörelsemängdsmoment, \mathbb{L}



Vi får här i figuren rörelsemängdsmomentet

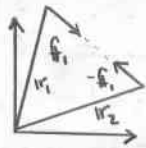
$$\mathbb{L}_{0i} = \mathbb{r}_i \times \mathbb{p}_i = m_i \mathbb{r}_i \times \dot{\mathbb{r}}_i$$

$$\text{Totalt: } \mathbb{L}_0 = \sum_i m_i \mathbb{r}_i \times \dot{\mathbb{r}}_i$$

Tidsderivatan av \mathbb{L}_0 blir:

$$\dot{\mathbb{L}}_0 = \sum_i m_i (\cancel{\dot{\mathbb{r}}_i \times \mathbb{r}_i} + \mathbb{r}_i \times \ddot{\mathbb{r}}_i) = \sum_i \mathbb{r}_i \times (\mathbb{F}_i + \mathbb{f}_i)$$

↑ Yttre
↓ Inre
↓ 0?



$$\mathbb{r}_1 \times \mathbb{f}_1 + \mathbb{r}_2 \times (-\mathbb{f}_1) = 0!$$

Detta ger att

$$\dot{\mathbb{L}}_0 = \sum_i \mathbb{r}_i \times \mathbb{F}_i = M_0 \text{ (vridande moment)}$$

Med avseende på masscentrum:

$$\mathbb{L}_G = \sum_i m_i \rho_i \times \dot{\mathbb{r}}_i = \sum_i m_i \rho_i \times (\dot{\mathbb{r}} + \dot{\rho}_i)$$

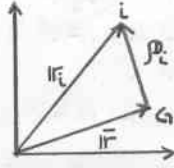
Härledning på s. 269

$$\dot{\mathbb{L}}_G = \dot{M}_G$$

Föreläsning 2

För partikelsystem (inkl. stela kroppar) är det praktiskt att dela upp dess rörelse i:

- masscentrumsrörelse
- rörelse rel. masscentrum



$$\vec{r}_i = \vec{R} + \vec{\rho}_i$$

$$\vec{v}_i = \dot{\vec{r}}_i = \dot{\vec{R}} + \dot{\vec{\rho}}_i$$

$$\vec{a}_i = \ddot{\vec{r}}_i = \ddot{\vec{R}} + \ddot{\vec{\rho}}_i$$

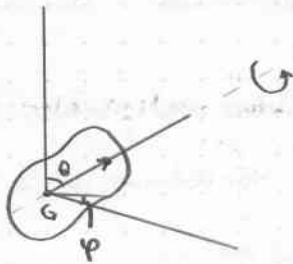
När vi går från ett partikelsystem till att betrakta en stel kropp får vi följande antal frihetsgrader:

$$3N \rightarrow 6 = 3 + 3$$

↑ ↓
translation rotation

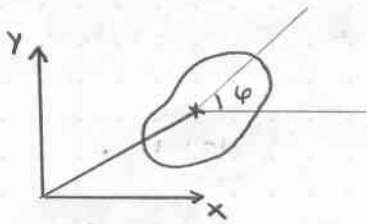
Vi har

3 rotationsfrihetsgrader. Dessa uttrycks med hjälp av Eulervinklar.



I stället för att betrakta "läget" - tittar vi istället på "hastigheter" dvs vinkelhastigheter, ω , Ω

Plan rörelse

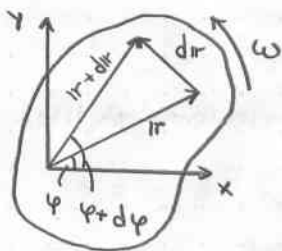


Translation: 2 frihetsgrader

Rotation: 1 frihetsgrad (kan jämföras med 3-D rörelse, där endast rotation kring z-axeln är tillåten.)

Vinkelhastighet: $\omega = \dot{\varphi}$

Hastighet: $\dot{x}\hat{x} + \dot{y}\hat{y}$



Utifrån figuren t.v. ser vi följande

$$|dr| = r \cdot d\varphi$$

$$\left| \frac{dr}{dt} \right| = r \frac{d\varphi}{dt}$$

$$|\dot{r}| = r\omega$$

Rotationsvektor ω : $|\omega| = \omega$

ω pekar längs rotationsaxeln och är riktad "enligt skruvregeln".

$$\dot{r} = \omega \times r$$

Plan rörelse

$$\left. \begin{aligned} v_r &= 0 \\ v_\varphi &= r\omega \end{aligned} \right\}$$

$$v = \omega \times r$$

$$a = \underbrace{\dot{\omega}}_{\omega \hat{z}} \times r + \omega \times \dot{r} = \dot{\omega} \times r + \underbrace{\omega \times v}$$

Plan rörelse
 $\omega \hat{z}$

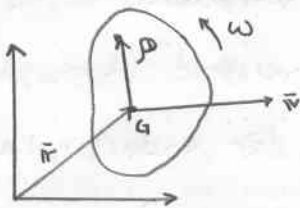
riktad i $\hat{\varphi}$ -led
dvs färriktningen

$$\omega \times (\omega \times r): \text{belopp} = \omega^2 r = \frac{v^2}{r}$$

riktad i $-\hat{r}$ -led och

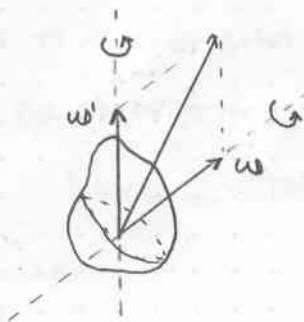
kallas centripetalacceleration

Translation och rotation



3-Dim rotation

Betrakta följande rotation kring en axel



$$v = \omega \times r$$

$$dr = \omega \times r dt \quad (\text{där } d \text{ representerar en liten bit})$$

Rotation med ω' : $dr_2 = \omega' \times r dt$

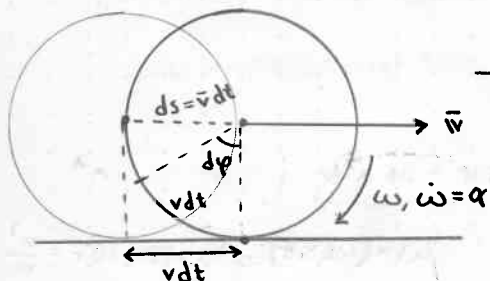
Vi adderar nu båda rotationerna

$$dr = dr_1 + dr_2 = \omega \times r dt + \omega' \times r dt = (\omega + \omega') \times r dt$$

Att kunna addera rotationsvektorer återkommer senare för 3-D rotation.

Sample Problem 5/4

Lösning:



$$\omega = \dot{\phi} = \frac{v}{r} \Rightarrow v = \omega r$$

$$\bar{a} = \alpha r$$

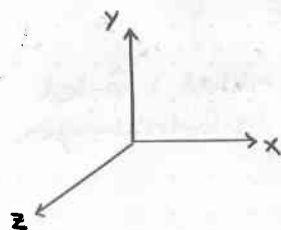
r läge för punkten på periferin

$$i\bar{r} = \bar{v} + \omega \times \rho$$

$$a = i\bar{r} = \bar{a} + \dot{\omega} \times \rho + \omega \times (\omega \times \rho) = \bar{a} - \frac{\dot{\omega}}{r} \hat{z} \times \rho + \frac{v^2}{r^2} \hat{z} \times (\hat{z} \times \rho)$$

$$\hat{z} \times \hat{z} = 0$$

Vi ser att $r d\phi = v dt$ ty sträckan som rullat i marken på cylindern måste sammanfalla med marksträckan



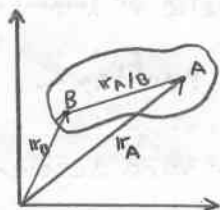
$$\omega = -\omega \hat{z} = -\frac{v}{r} \hat{z}$$

$$\dot{\omega} = -\frac{\dot{a}}{r} \hat{z}$$

$$a = \bar{a} \hat{x} - \frac{\dot{a}}{r} \hat{z} \times \hat{y} + \frac{v^2}{r^2} \hat{z} \times (\hat{z} \times \hat{y}) = \frac{v^2}{r} \hat{y}$$

Föreläsning 3

Relativ hastighet för en stel kropp i plan rörelse



Avståndet mellan A och B: r

$$\mathbf{r}_{A/B} = \mathbf{r}_A - \mathbf{r}_B$$

Antal frihetsgrader: \mathbf{r}_B : 2

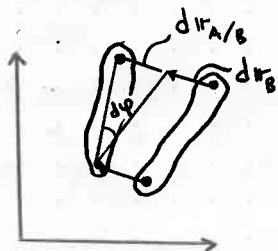
\mathbf{r}_A : 1 ty $|\mathbf{r}_{A/B}|$ är konstant

Vi ser på figuren att

$$\mathbf{r}_A = \mathbf{r}_B + \mathbf{r}_{A/B} \quad \text{där } \mathbf{r}_{A/B} \text{ är relativortvektor}$$

jämför

$$\mathbf{r} = \mathbf{r} + \mathbf{p} \quad \text{för partikelsystem}$$



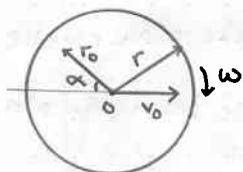
Figuren visar en kombination av dels translation men även rotation.

Tidsderivatan av lägesvektorerna ger hastigheten:

$$\frac{d\mathbf{r}_A}{dt} = \frac{d\mathbf{r}_B}{dt} + \frac{d\mathbf{r}_{A/B}}{dt}$$

$$\mathbf{v}_A = \mathbf{v}_B + \mathbf{v}_{A/B} = \mathbf{v}_B + \boldsymbol{\omega} \times \mathbf{r}_{A/B}$$

Sample Problem 5/7



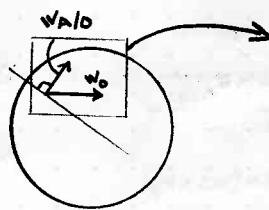
Given: $\alpha = 30^\circ$ Sökt: \mathbf{v}_A

$$r = 0.3$$

$$r_0 = 0.2 \text{ m}$$

$$v_0 = 3 \text{ m/s}$$

Lösning:

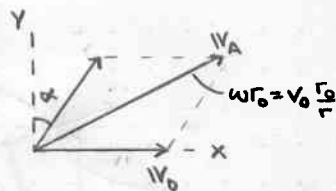


Vi har

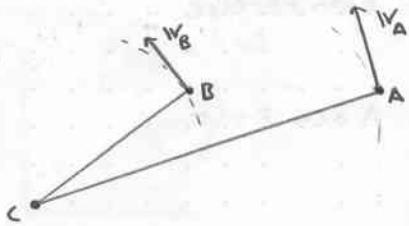
$$\mathbf{v}_A = \mathbf{v}_0 + \mathbf{v}_{A/0} = \mathbf{v}_0 + \boldsymbol{\omega} \times \mathbf{r}_{A/0}$$

$$\mathbf{v}_A = v_0 \hat{x} + v_0 \frac{r_0}{r} (\hat{x} \sin \alpha + \hat{y} \cos \alpha) = v_0 \left(\left(1 + \frac{r_0}{r} \sin \alpha\right) \hat{x} + \frac{r_0}{r} \cos \alpha \hat{y} \right)$$

Vi gör en dim-kontroll och kan konstatera att dim stämmer.



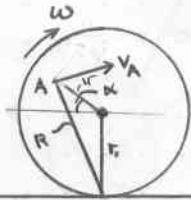
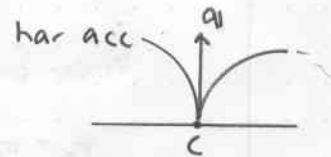
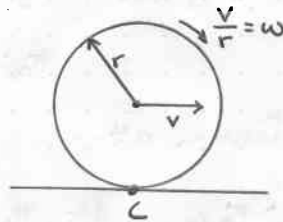
Momentant "rotationscentrum"



Hela kroppens rörelse är (momentant) i rotation kring punkten C.

[Varning: C kan vara accelererad]

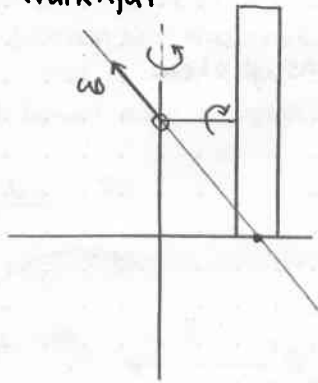
Ex.



För denna figur gäller

$$v_A = R\omega \quad \text{där } R = r + r_0$$

Ex Kvarnhjul



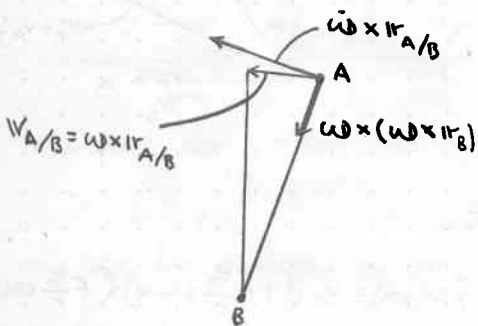
Rel. hastighet

$$v_A = v_B + \underbrace{\omega \times r_{A/B}}_{\omega \times r_{A/B}}$$

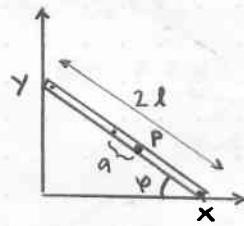
Rel. acceleration

$$a_A = a_B + \underbrace{\dot{\omega} \times r_{A/B}}_{\dot{\omega} \times r_{A/B}} + \omega \times (\omega \times r_{A/B})$$

Obs. $\dot{\omega} \times r_{A/B}$ även icke-plan rörelse men riktningen gäller bara för plan rörelse.



Ex

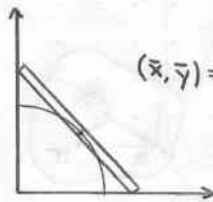


Bestäm v och a för punkte P uttryckt i

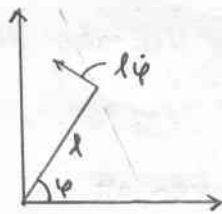
$$\varphi, \dot{\varphi} = \omega, \ddot{\varphi} = \alpha$$

Nu har vi en icke-fix punkt P. Vi delar då upp rörelserna:

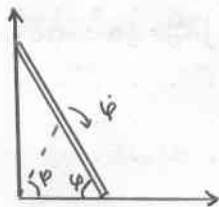
- mittpunkts translation
- rotation kring mittpunkten



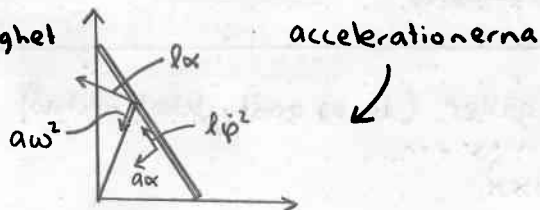
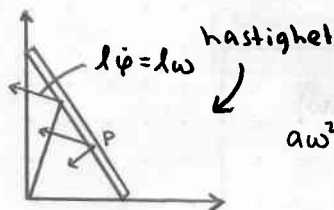
$$(x, y) = (l \sin \varphi, l \cos \varphi) \Rightarrow \text{cirkelbåge}$$



Vi har nu rotation



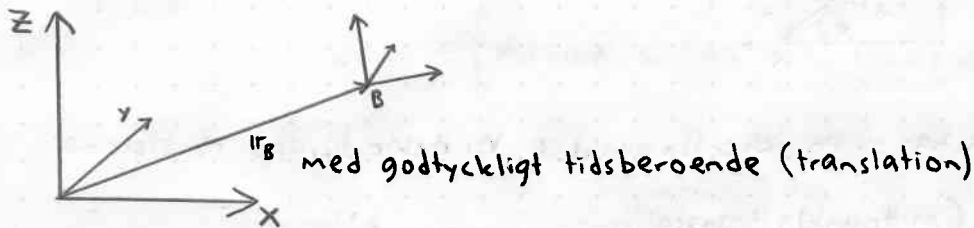
"Åt motsatt håll"



Föreläsning 4

Rörelse relativt roterande koordinatsystem

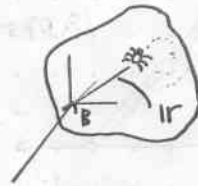
Betrakta nedanstående inertialsystem



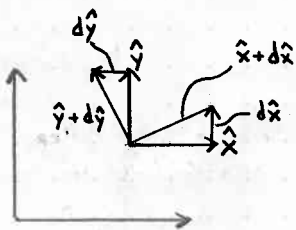
Vi har två olika fall med relativ rörelse

1) A fix punkt på kroppen

2) A varierar med tiden



Betrakta nu följande rotation



vi kan utläsa ur figuren att

$$d\hat{x} \text{ pekar som } \hat{y}, |d\hat{x}| = d\theta = \omega dt \quad d\hat{x} = \omega dt \hat{y}$$

$$d\hat{y} \text{ pekar som } -\hat{x}, |d\hat{y}| = d\theta = \omega dt \quad d\hat{y} = -\omega dt \hat{x}$$

Ur detta får vi således

$$\dot{\hat{x}} = \omega \hat{y} = \omega \times \hat{x}$$

$$\dot{\hat{y}} = -\omega \hat{x} = \omega \times \hat{y}$$

Allmänt gäller (då ω godtyckligt riktad)

$$\dot{\hat{x}} = \omega \times \hat{x}$$

$$\dot{\hat{y}} = \omega \times \hat{y}$$

$$\dot{\hat{z}} = \omega \times \hat{z}$$

För figur 3) på föregående sida gäller

$$\mathbf{r}_A = \mathbf{r}_B + \mathbf{r}$$

$$\text{där } \mathbf{r} = x\hat{x} + y\hat{y} + z\hat{z}$$

Samtliga tidsberoende

Vi deriverar \mathbf{r}_A och får:

$$\mathbf{v}_A = \dot{\mathbf{r}}_A = \dot{\mathbf{r}}_B + \underbrace{(x\dot{\hat{x}} + y\dot{\hat{y}} + z\dot{\hat{z}})}_{\omega \times \mathbf{r}} + \underbrace{(\dot{x}\hat{x} + \dot{y}\hat{y} + \dot{z}\hat{z})}_{\mathbf{v}_{rel}}$$

$\omega \times \mathbf{r}$ (som tidigare) svarar mot att koordinatsystemet ändrar sin orientering.

\mathbf{v}_{rel}
Beror på ändring av läget relativt koordinatsystemet.

Närvarande även om $\dot{x} = \dot{y} = \dot{z} = 0$

Detta leder till att:

$$\mathbf{v}_A = \mathbf{v}_B + \underbrace{\omega \times \mathbf{r}}_{\dot{\mathbf{r}}} + \mathbf{v}_{rel}$$

Acceleration

$$\mathbf{a}_A = \mathbf{a}_B + \dot{\omega} \times \mathbf{r} + \omega \times \dot{\mathbf{r}} + \dot{\mathbf{v}}_{rel}$$

$$\omega \times \mathbf{r} + \mathbf{v}_{rel}$$

$$\frac{d}{dt}(x\hat{x} + y\hat{y} + z\hat{z}) = \omega \times \mathbf{r} + (x\dot{\hat{x}} + y\dot{\hat{y}} + z\dot{\hat{z}})$$

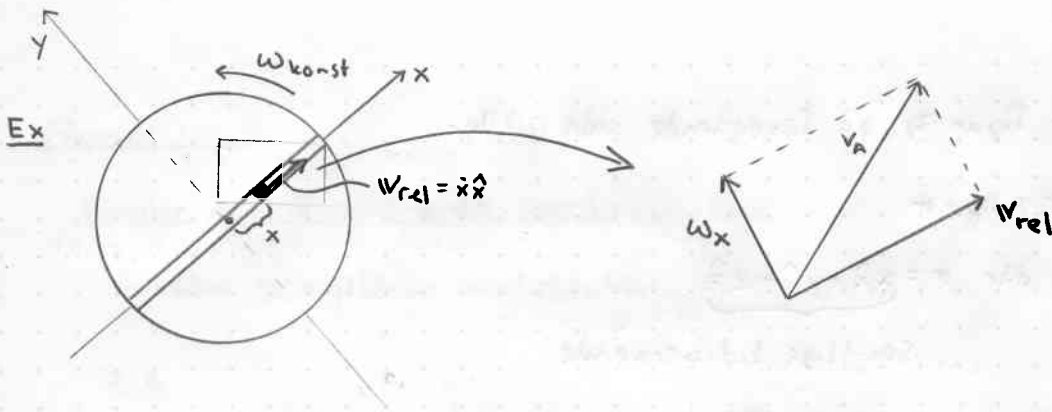
↑
För $\dot{\hat{x}}$ o.s.v

Detta ger alltså:

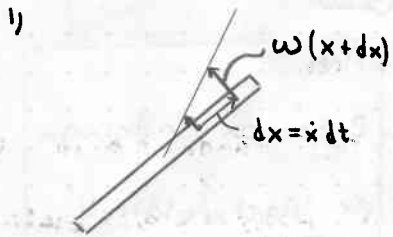
$$\mathbf{a}_A = \mathbf{a}_B + \dot{\omega} \times \mathbf{r} + \underbrace{\omega \times (\omega \times \mathbf{r})}_{\text{Centripetal acceleration}} + \underbrace{2\omega \times \mathbf{v}_{rel}}_{\text{Coriolis acceleration}} + \mathbf{a}_{rel}$$

Centripetal acceleration

Coriolis acceleration



Följande förlopp utvecklas:

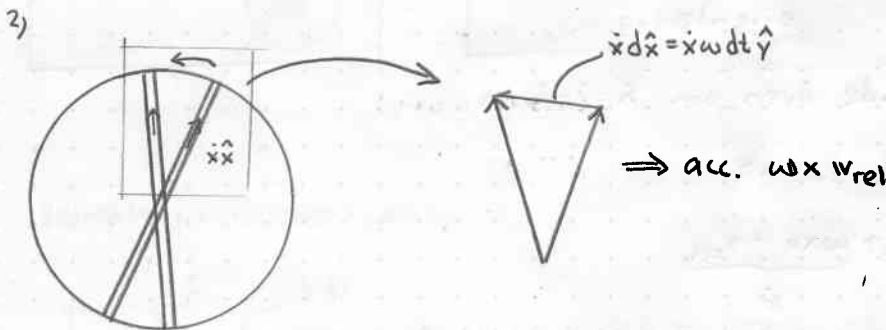


Hastighetsändring

$$\omega dx = \omega \dot{x} dt$$

$$\frac{1}{dt} \rightarrow \text{acc}$$

$$\omega \times \hat{y} = \omega \hat{z} \times (\dot{x} \hat{x}) = \omega \times v_{rel}$$



Vi får nu två bidrag:

- { Ett för att hastigheten p.g.a rotation, vilken ändras då radien ändras.
- { Ett för att riktningen ändras med rotationen.

Dessa är lika stora.

Newton's andra lag i inertialsystem

$$\mathbf{F} = m \mathbf{a}_A = m (\mathbf{a}_B + \dot{\omega} \times \mathbf{r} + \omega \times (\omega \times \mathbf{r}) + 2\omega \times \mathbf{v}_{rel} + \mathbf{a}_{rel})$$

$$\mathbf{F} - \boxed{m \mathbf{a}_B} - \boxed{m \dot{\omega} \times \mathbf{r}} - \boxed{m \omega \times (\omega \times \mathbf{r})} - \boxed{2m \omega \times \mathbf{v}_{rel}} = m \mathbf{a}_{rel}$$

Fiktiva krafter "Tröghetskrafter"

Föreläsning 5

Stelkroppsdynamik

Allmän stelkroppsrörelse har 6 frihetsgrader:

- 3 st translation (masscentrums läge)
- 3 st rotation - talar inte om "läget" utan om "hastigheten" ω

Dessa beskriver 6 rörelseekvationer

Translation:

$$F = m\ddot{a}_i \Leftrightarrow \begin{cases} \dot{p}_i = F \\ p_i = m\dot{v}_i \end{cases}$$


Rotation:

$$M_G = \text{"ändring av } \omega \text{" } \dot{L}_G$$

Vi behöver en relation

mellan L och ω

Plan rörelse (2-D)



$$L_G = \sum_i r_i \times p_i = \sum_i r_i \times m_i (\omega \times r_i)$$

Vi tittar nu bara på komponenter $\parallel \omega$: L_G

$$L_G = \underbrace{\sum_i m_i r_i^2}_{\bar{I}} \omega = \bar{I} \omega$$

Beror bara på kroppens
massfördelning.

Tröghetsmoment, \bar{I}

Vi har följande ekvation för plan rotations rörelse:

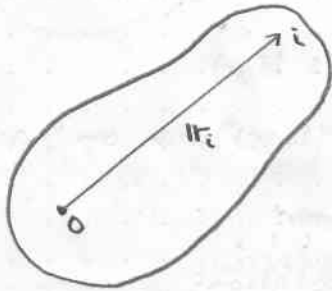
$$M_G = \bar{I} \dot{\omega} (= \bar{I} \alpha) \quad \text{där } \alpha \text{ är vinkel accelerationen}$$

I fall kroppen har en fix punkt O. 3 frihetsgrader.

$$M_O = \dot{L}_O$$

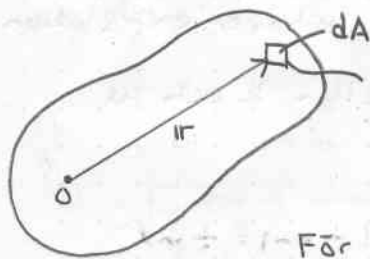
Beräkning av tröghetsmoment

$$I_0 = \sum_i m_i r_i^2$$



(m.a.p axel: r_i är avståndet till axeln)

Kontinuerlig massfördelning:



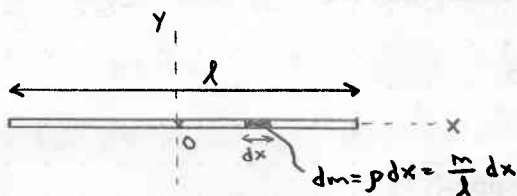
$dm = \rho dA$ där ρ är densitet (massa/ytenhet)

$$I_0 = \int \rho r^2 dA$$

För en 3-dim kropp har vi

$$\boxed{I_0 = \int r^2 dm} \quad \text{där } dm = \rho dV$$


Ex 1 Rak, tunn och homogen stav



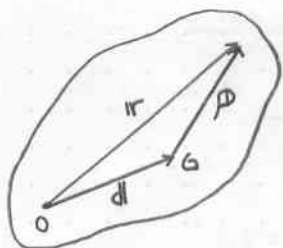
Vi får

$$I_0 = \int_{-\frac{l}{2}}^{\frac{l}{2}} x^2 \frac{m}{l} dx = \frac{m}{l} \left[\frac{x^3}{3} \right]_{-\frac{l}{2}}^{\frac{l}{2}} = \frac{1}{12} m l^2$$

Ex 2 Samma stav fast vi betraktar den fasthållen i änden.



$$\text{Nu fås } I_0 = \int_0^l x^2 \frac{m}{l} dx = \frac{m}{l} \left[\frac{x^3}{3} \right]_0^l = \frac{1}{3} m l^2 \text{ (4 ggr större)}$$



$$I_0 = \int r^2 dm = \int (d^2 + p^2 + 2d \cdot p) dm =$$


$$= \int p^2 dm + \boxed{m d^2} + d \cdot \underbrace{\int p dm}_{\sum m_i p_i = 0}$$

Tröghetsmoment
för partikel i G

Parallellaxelteoremet "Steiners sats" lyder:

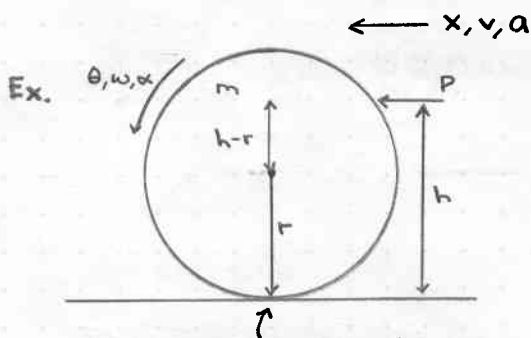
$$I_0 \geq \bar{I} \text{ med likhet endast då } O = G$$

Ex 3 Vi visar nu sambandet mellan de båda punkternas tröghets-



Vi har

$$I_G = \frac{1}{12} m l^2 \Rightarrow I_0 = I_G + m \left(\frac{l}{2}\right)^2 = m l^2 \left(\frac{1}{12} + \frac{1}{4}\right) = \frac{1}{3} m l^2$$



Vilken kraft behövs från underlaget?
Kan den vara noll?

Vi har:

Translation:

$$m \bar{a} = P - F$$

Rotation:

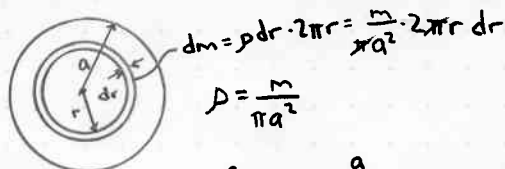
$$\bar{I} \alpha = F r + P(h-r)$$

Rullning:

$$\bar{a} = r \alpha$$

Utifrån dessa ekvationer fås

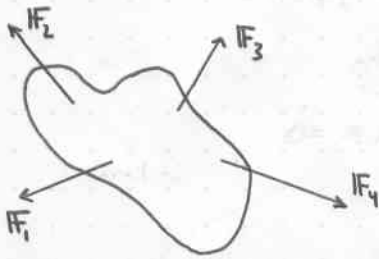
$$\begin{cases} m \bar{a} = P - F \\ \bar{I} \bar{a} = F r + P(h-r) \\ \bar{I} \frac{P-F}{m} \end{cases}$$



$$\bar{I} = \int_0^a r^2 dm = \int_0^a \frac{m}{a^2} \cdot 2r^3 dr = \frac{2m}{a^2} \left[\frac{1}{4} r^4 \right]_0^a = \frac{m a^2}{2}$$

$$\text{Då } F=0: h = \frac{3}{2} r$$

Dynamik för stela kroppar



$$M = r \times F$$

Lagen för masscentrums rörelse:

$$ma = \sum F$$

Impulsmomentlagen:

$$\frac{dL_0}{dt} = \sum M_0 \quad (\text{m.a.p en fix punkt})$$

$$\frac{dL_G}{dt} = \sum M_G \quad (\text{m.a.p masscentrum})$$

I plan rörelse gäller istället:

$$I_0 \alpha = \sum M_0$$

$$\bar{I} \alpha = \sum \bar{M}$$

Föreläsning 6

Allmänt:

Energi är oförstörbar

" $\Delta T = W$ " där ΔT är ändringen av rörelseenergi

W är arbete

Arbete som kraft uträttar: $dW = F \cdot dr$

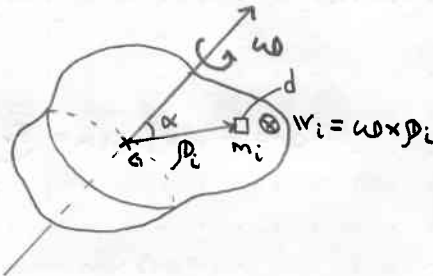
—||— moment —||—: $dW = M d\theta$

Kinetisk energi vid translation: $T = \frac{1}{2} m v^2$

rotation: $T = \frac{1}{2} \bar{I} \omega^2$ (kring G)

Delta leder till att total kinetisk energi blir

$$T = \frac{1}{2} m v^2 + \frac{1}{2} \bar{I} \omega^2 \quad \text{eller} \quad T = \frac{1}{2} I_0 \omega^2$$



$$v_i = \omega \rho_i \sin \alpha$$

Vi får här den kinetiska energin:

$$T = \sum_i \frac{1}{2} m_i v_i^2 = \sum_i \frac{1}{2} m_i \omega^2 d_i^2 = \frac{1}{2} \left(\sum_i m_i d_i^2 \right) \omega^2 = \frac{1}{2} \bar{I} \omega^2 \quad (\text{fix axel})$$

För partikelsystem

$$T = \frac{1}{2} m \bar{v}^2 + \sum_i \frac{1}{2} m_i |\rho_i|^2$$

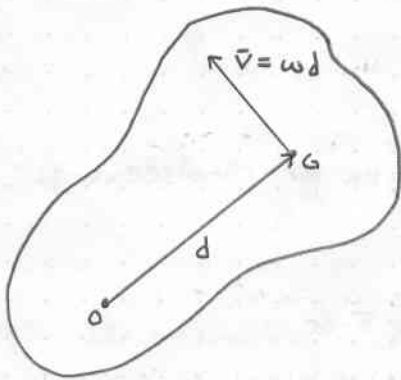
och stel kropp

$$T = \frac{1}{2} m \bar{v}^2 + \frac{1}{2} \bar{I} \omega^2$$

eller

$$T = \frac{1}{2} I_0 \omega^2$$

Vi gör en kontroll:

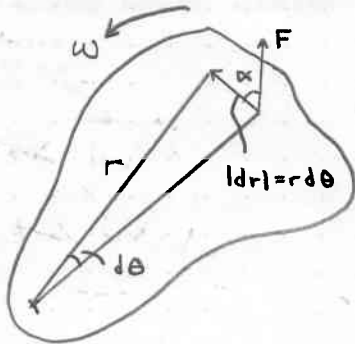


$$T = \begin{cases} \frac{1}{2} m \vec{v}^2 + \frac{1}{2} \bar{I} \omega^2 = \frac{1}{2} (I + md^2) \omega^2 \\ \frac{1}{2} I_0 \omega^2 \end{cases}$$

Vi får alltså

$$I_0 = \bar{I} + md^2$$

Det stämmer enligt Steiners sats.

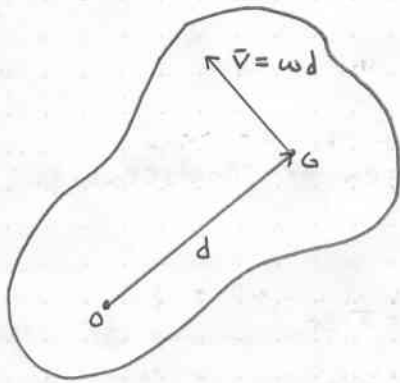


$$F \cdot dr = F |dr| \cos \alpha = \underbrace{F \cos \alpha}_M d\theta = M d\theta$$

Effekt, P (Power):

$$P = \frac{\text{arbete}}{\text{tidsenhet}} = \frac{dW}{dt} = \begin{cases} F \cdot v \\ M \cdot \omega \end{cases}$$

Vi gör en kontroll:

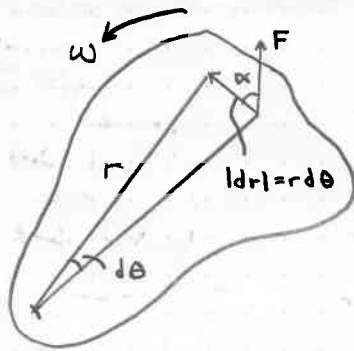


$$T = \begin{cases} \frac{1}{2} m \bar{v}^2 + \frac{1}{2} \bar{I} \omega^2 = \frac{1}{2} (I + m d^2) \omega^2 \\ \frac{1}{2} I_0 \omega^2 \end{cases}$$

Vi får alltså

$$I_0 = \bar{I} + m d^2$$

Det stämmer enligt Steiners sats.

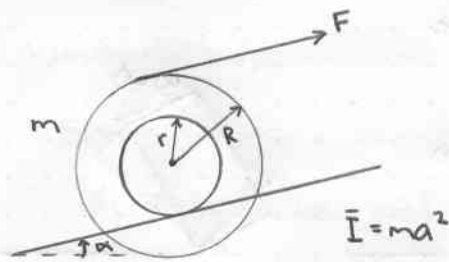


$$F \cdot dr = F |dr| \cos \alpha = \underbrace{F r \cos \alpha}_M d\theta = M d\theta$$

Effekt, P (Power):

$$P = \frac{\text{arbete}}{\text{tidsenhet}} = \frac{dW}{dt} = \begin{cases} F \cdot v \\ M \cdot \omega \end{cases}$$

sample Problem 6/9



Givet:

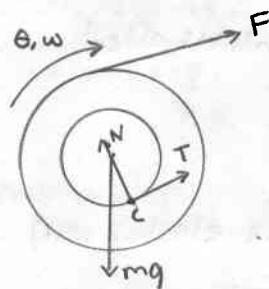
$$m = 40 \text{ kg}, r = 0.1 \text{ m}, R = 0.2 \text{ m}$$

$$a = 0.15 \text{ m}, F = 100 \text{ N}, s = 3 \text{ m}$$

Beräkna ω när rullen rört sig sträckan s utan att glida?

Lösning:

Vi frilägger rullen



Eftersom punkten c momentant står stilla

uför N och T inget arbete.

Vi får

Arbete från F : $F(1 + \frac{R}{r})dx$

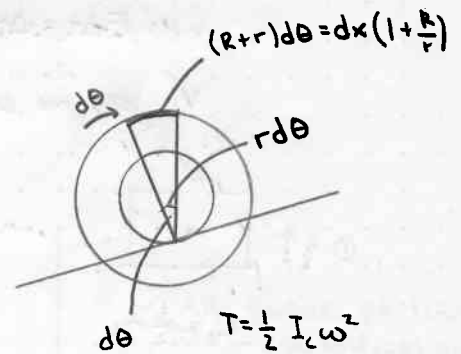
från mg : $-mg \sin \alpha \cdot dx$

Förflyttning: $\Delta x = s$

arbete: $W = [F(1 + \frac{R}{r}) - mg \sin \alpha] s$

Detta ger

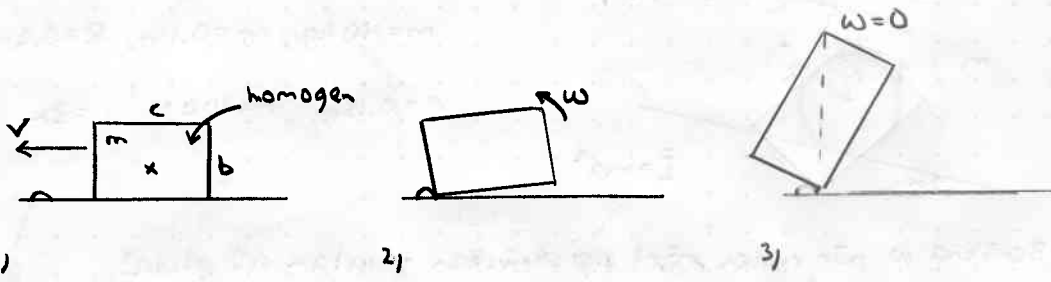
$$\frac{1}{2} m (a^2 + r^2) \omega^2 = [F(1 + \frac{R}{r}) - mg \sin \alpha] s \quad \text{dim OK!} \quad = m(a^2 + r^2)$$



$$T = \frac{1}{2} I_c \omega^2$$


där $I_c = \bar{I} + mr^2 =$

Ex Låda som glider mot ett hinder.

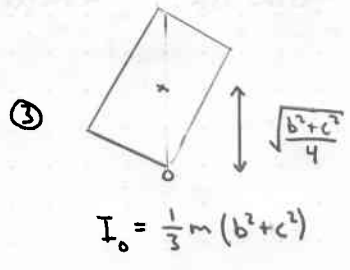
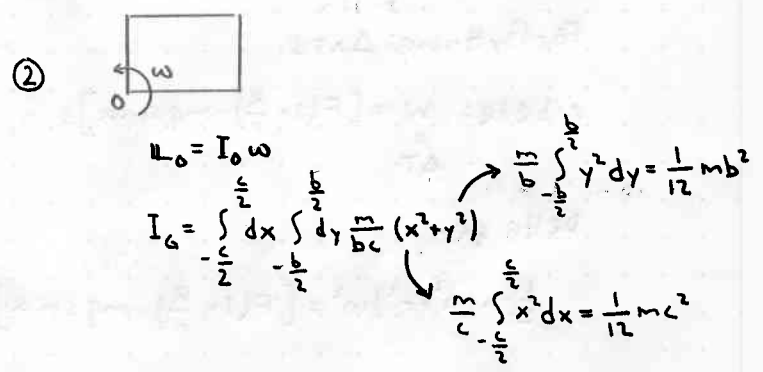
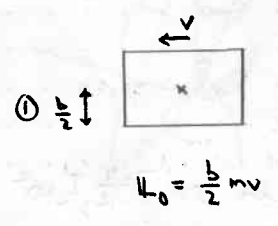


Vi betraktar de olika stegen:

② → ③: Rörelseenergi → lägesenergi
 (Vi försummar arbete från kontaktkrafter)

① → ②: p ej bevarad 
 E antagligen ej bevarad (icke-elastisk stöt)
 L_0 bevarad ty kontakt sker under mkt kort tid Δt
 $F \Delta t = \Delta p$ "Normalstor"

Vi kan nu se att $F = \frac{\text{normalstor}}{\text{pytteliten}} = \text{jättestor}$



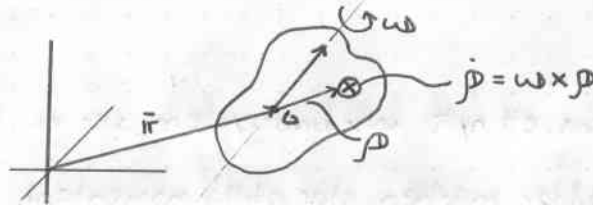
L_0 bevarad $\Rightarrow \frac{1}{3} m (b^2 + c^2) \omega = \frac{1}{2} b v$

Föreläsning 7

Allmän stelkroppsrörelse

Kinematik

Betrakta figuren nedan



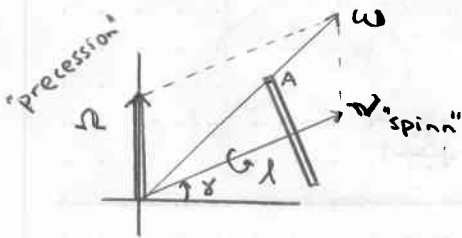
Vi har följande v och a

$$v = \bar{v} + \omega \times \rho$$

$$a = \bar{a} + \dot{\omega} \times \rho + \omega \times (\omega \times \rho)$$

centripetalacceleration

Sample Problem 7/2 "Precessions rot."



Givet: $\gamma = 30^\circ$, $r = 0.125 \text{ m}$, $l = 0.25 \text{ m}$

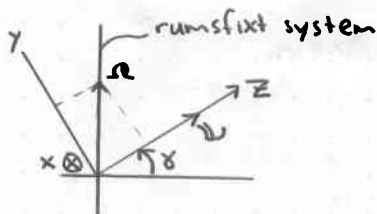
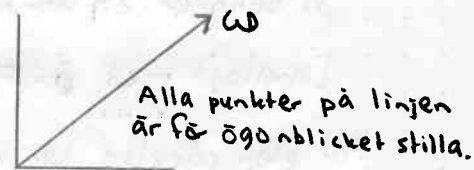
$v = 4\pi \text{ s}^{-1}$, $\Omega = 2\pi \text{ s}^{-1}$

Sökt: ω , α , v_A , a_A

Ω konstant i tiden

v icke konstant $\dot{v} = \Omega \times v$

$$\omega = \Omega \times v$$



$$v = v \hat{z}$$

$$\Omega = \Omega \cos \gamma \hat{y} + \Omega \sin \gamma \hat{z}$$

$$\omega = \Omega \cos \gamma \hat{y} + (v + \Omega \sin \gamma) \hat{z}$$

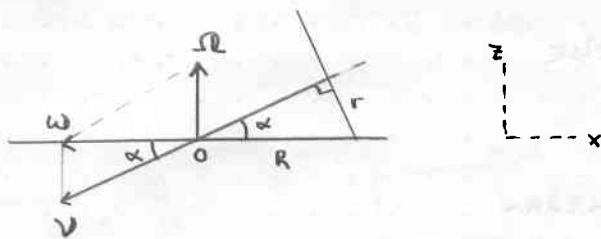
$$\alpha = \dot{\omega} = \dot{v} = \Omega \times v = \Omega v \cos \gamma \hat{x} \quad \text{OK!}$$

Nu bestämmer vi v_A :

$$v_A = \omega \times r_A = [\Omega \cos \gamma \hat{y} + (v + \Omega \sin \gamma) \hat{z}] \times (r \hat{y} + l \hat{z}) =$$

$$= \hat{x} [\Omega l \cos \gamma - r(v + \Omega \sin \gamma)]$$

Uppg 7/135



Precessionsrörelse

Istället för att införa ett nytt koordinatsystem, ser vi till att den punkt som nuddar marken står stilla momentant.

$$\sin \alpha = \frac{r}{R}$$

$$\Omega = \frac{2\pi}{\tau}$$

$$v = -v \cos \alpha \hat{x} - \underbrace{v \sin \alpha}_{\Omega} \hat{z} \quad , \quad v = \frac{\Omega}{\sin \alpha} = \Omega \frac{R}{r}$$

$$\cos \alpha = \sqrt{1 - \sin^2 \alpha}$$

Insättning ger nu

$$\omega = -\hat{x} v \cos \alpha = -\hat{x} \frac{2\pi}{\tau} \frac{R}{r} \sqrt{1 - \frac{r^2}{R^2}} = -\hat{x} \frac{2\pi}{\tau} \sqrt{\frac{R^2}{r^2} - 1}$$

För dynamik: $\dot{L} = M$

Vi behöver ett uttryck för L i termer av ω

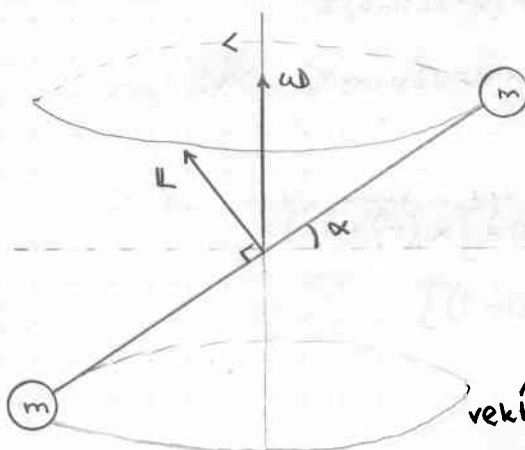
[analogt med $\dot{p} = F$, $p = m v$]

För plan rörelse har vi

$L = I \omega$ där I är tröghetsmoment m.a.p axeln.

$$\Rightarrow I \dot{\omega} = M$$

Vi illustrerar för ökad förståelse



$$\otimes v = \omega \times r \quad v = \omega r \cos \alpha$$

Vi har bidrag till L

$$r \times p = m r \times v$$

Obs. L är inte // med ω . $L = 2mr^2 \omega \cos \alpha$

$$L = I \omega$$

↑ vektor ↑ matris ↙ vektor

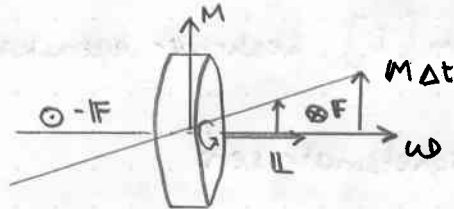
Föreläsning 8

Vi har relationen

$$\dot{L} = M$$

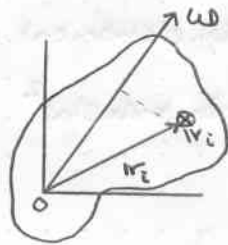
Vad är L ?

Ex.



$$\dot{L} = M$$

$$\Delta L = M \Delta t$$



Bidrag till L :

$$L_i = r_i \times p_i = m_i r_i \times v_i = m_i r_i \times (\omega \times r_i)$$

$$L_0 = \sum m_i r_i \times (\omega \times r_i)$$

kont.

$$L_0 = \int dm r \times (\omega \times r)$$

↓
pdv

Lägesvektorn r skrivs

$$r = x\hat{x} + y\hat{y} + z\hat{z}$$

Vinkelhastigheten

$$\omega = \omega_x\hat{x} + \omega_y\hat{y} + \omega_z\hat{z}$$

Vi får alltså

$$\omega \times r = \hat{x}(\omega_y z - \omega_z y) +$$

$$\hat{y}(\omega_z x - \omega_x z) +$$

$$\hat{z}(\omega_x y - \omega_y x)$$

Obs cyklisk permutation



Vidare är

$$\begin{aligned} r \times (\omega \times r) = & \hat{x} [y(\omega_x y - \omega_y x) - z(\omega_z x - \omega_x z)] + \\ & \hat{y} [z(\omega_y z - \omega_z y) - x(\omega_x y - \omega_y x)] + \\ & \hat{z} [x(\omega_z x - \omega_x z) - y(\omega_y z - \omega_z y)] \end{aligned}$$

$$= \begin{bmatrix} (y^2+z^2)\omega_x - xy\omega_y - xz\omega_z \\ -xy\omega_x + (x^2+z^2)\omega_y - yz\omega_z \\ -xz\omega_x - yz\omega_y + (x^2+y^2)\omega_z \end{bmatrix} = \mathbf{r} \times (\boldsymbol{\omega} \times \mathbf{r}) = \begin{bmatrix} y^2+z^2 & -xy & -xz \\ -xy & x^2+z^2 & -yz \\ -xz & -yz & x^2+y^2 \end{bmatrix} \rightarrow \mathbf{I}, \text{ tröghetsmatris}$$

Vi har att

$$\mathbf{L} = \int dm [\mathbf{I}] \boldsymbol{\omega} \quad \text{där } \int dm [\mathbf{I}] \text{ beskriver egenskaper för kroppen.}$$

Vi betraktar nu elementen i tröghetsmatrisen:

$$\mathbf{I} = \begin{bmatrix} I_{xx} & -I_{xy} & -I_{xz} \\ -I_{yx} & I_{yy} & -I_{yz} \\ -I_{zx} & -I_{zy} & I_{zz} \end{bmatrix} \rightarrow \text{deviationsmoment, avvikelser}$$

För diagonalelementen gäller

$$I_{xx} = \int dm (y^2+z^2) = \text{"tröghetsmoment m.a.p x-axeln"}$$

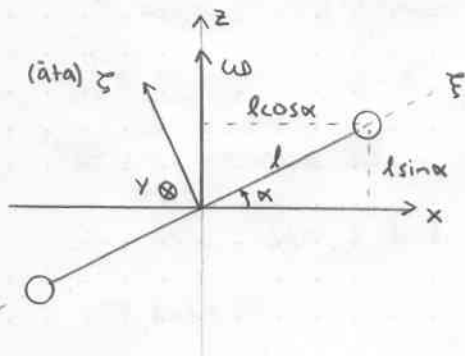
↓
(Avstånd från x-axeln)²

Deviationsmomenten gör alltid \mathbf{I} symm.

Vi har alltså att

$$I_{xy} = I_{yx} = \int dm xy \quad \text{o.s.v}$$

Betrakta nu åter exemplet med den svängande staven:



Vi får här elementen

$$I_{xx} = 2ml^2 \sin^2 \alpha \quad I_{xz} = 2ml^2 \sin \alpha \cos \alpha$$

$$I_{yy} = 2ml^2$$

$$I_{zz} = 2ml^2 \cos^2 \alpha$$

Detta ger oss tröghetsmatrisen

$$\mathbf{I} = 2ml^2 \begin{bmatrix} \sin^2 \alpha & 0 & \sin \alpha \cos \alpha \\ 0 & 1 & 0 \\ \sin \alpha \cos \alpha & 0 & \cos^2 \alpha \end{bmatrix} \Rightarrow \mathbf{L} = \mathbf{I} \boldsymbol{\omega} = \begin{bmatrix} 0 \\ 0 \\ \omega \end{bmatrix} = 2ml^2 \omega \begin{bmatrix} -\sin \alpha \cos \alpha \\ 0 \\ \cos^2 \alpha \end{bmatrix}$$

Som vi ser blir detta ingen omständiga beräkningar. Se istället till

den matris \mathbf{I} vi erhåller om vi räknar i $\xi y \xi$ -systemet

$$\mathbf{I} = \begin{bmatrix} 0 & 0 & 0 \\ 0 & 2ml^2 & 0 \\ 0 & 0 & 2ml^2 \end{bmatrix}$$

Vi ser nu att I kan göras diagonal eftersom den är symmetrisk.
 Man diagonaliserar I genom att välja ett \perp koordinatsystem.

I det nya systemet gäller:

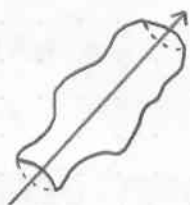
$$I = \begin{bmatrix} I_{xx} & 0 & 0 \\ 0 & I_{yy} & 0 \\ 0 & 0 & I_{zz} \end{bmatrix} \quad \begin{array}{l} \text{egenvärden} = \text{"Huvudtröghetsmoment"} \\ \text{egenvektor} = \text{vektor längs koord. i det syst.} \end{array}$$

• Kring vilka axlar kan en kropp rotera utan M ?

då ω konstant har vi inget $M \Rightarrow L$ konstant.

$\omega \parallel L$ då ω är egenvektor till I och ω pekar längs "huvudtröghetsaxeln".

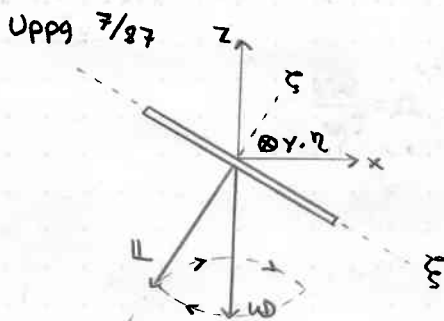
• Hitta huvudtröghetsaxlar



rotations symmetri

• Bestäm L , $\dot{L} = M$

Uppg 7/87



Sökt: L , $\dot{L} = M$

Lösning: Vi har tröghetsmomenten

$$I_{\xi\xi} = \frac{1}{2}mr^2$$

$$I_{\zeta\zeta} = \frac{1}{4}mr^2$$

(Inga dev. moment)

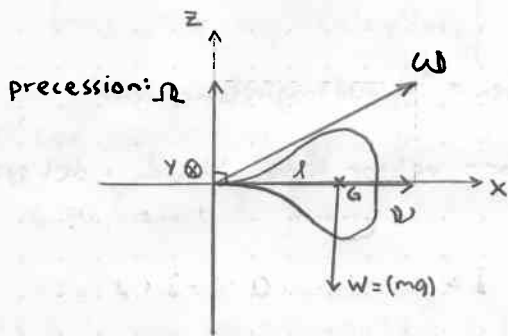
$$\omega = -\omega \hat{z} = \omega \sin \alpha \hat{\xi} - \omega \cos \alpha \hat{\zeta}$$

$$L = \frac{1}{4}mr^2 \omega \sin \alpha \hat{\xi} - \frac{1}{2}mr^2 \omega \cos \alpha \hat{\zeta}$$

$$\dot{L} = \omega \times L = \dots = \frac{1}{8}mr^2 \omega \sin 2\alpha \hat{\eta}$$

Föreläsning 9

Reguljär precessionsrörelse



Vi har följande spinn och precession:

$$\boldsymbol{v} = v \hat{x}$$

$$\boldsymbol{\Omega} = \Omega \hat{z}$$

Tröghetsmatrisen i x, y, z -systemet

$$I_{xx} = I$$

$$I_{yy} = I_{zz} = I_0$$

Detta ger

$$\boldsymbol{L} = I v \hat{x} + I_0 \Omega \hat{z}$$

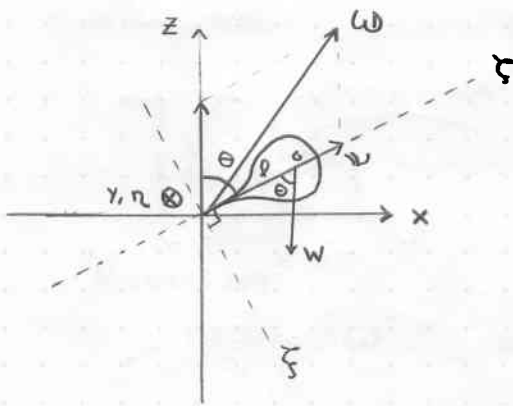
$$\dot{\boldsymbol{L}} = \boldsymbol{\Omega} \times \boldsymbol{L} = I \Omega v \hat{y}$$

Moment från tyngdkraften

$$\boldsymbol{M} = W l \hat{y}$$

Detta stämmer om $I \Omega v = W l$ dvs $\Omega = \frac{W l}{I v}$

Godtycklig vinkel



Vi har nu

$$v = v \hat{\xi}$$

$$\Omega = \Omega \hat{z} = \Omega (\hat{\xi} \cos \theta - \hat{\eta} \sin \theta)$$

$$\omega = -\Omega \sin \theta \hat{\xi} + (v + \Omega \cos \theta) \hat{\eta}$$

$$\underline{L} = -I_0 \Omega \sin \theta \hat{\xi} + I (v + \Omega \cos \theta) \hat{\eta}$$

$$\begin{aligned} \dot{\underline{L}} &= \Omega \times \underline{L} = \hat{\eta} ((-I_0 \Omega^2 \cos \theta \sin \theta) + \\ &+ I \Omega \sin \theta (v + \Omega \cos \theta)) = \end{aligned}$$

$$= \hat{\eta} \Omega \sin \theta (I v + (I - I_0) \Omega \cos \theta)$$

Vi kontrollerar genom att låta $\theta = 0 \Rightarrow \dot{\underline{L}} = 0$

$$\theta = \frac{\pi}{2} \quad \text{OK!}$$

Jämför detta med

$$M = W l \sin \theta \hat{y}$$

$$\dot{\underline{L}} = M ?$$

$$W l = \Omega (I v + (I - I_0) \Omega \cos \theta)$$

$$\text{där } v = \frac{W l}{\Omega I} + \frac{I_0 - I}{I} \Omega \cos \theta$$

Reguljär precession utan vridande moment

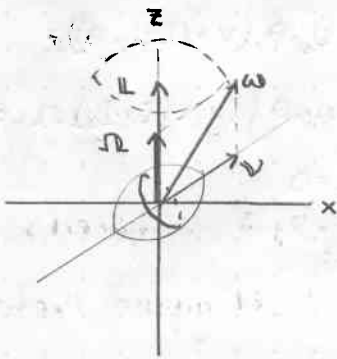
$$v = \frac{I_0 - I}{I} \Omega \cos \theta$$

$$\Omega = \frac{Iv}{(I_0 - I) \cos \theta} = \frac{v}{\left(\frac{I_0}{I} - 1\right) \cos \theta}$$

vi tar $v > 0$

Med $I_0 > I$ fås $\Omega > 0$, $I_0 < I$: $\Omega < 0$

Betrakta figuren nedan:

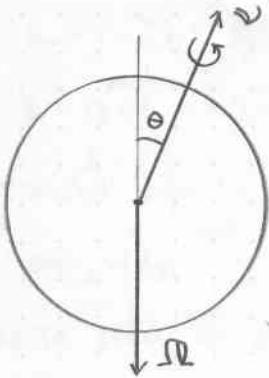


$$\mathbb{L} = I(v + \Omega \cos \theta) \hat{\zeta} - I_0 \Omega \sin \theta \hat{\xi}$$

Projicering på \hat{x} -axeln ger:

$$I \sin \theta (v + \Omega \cos \theta) - I_0 \Omega \sin \theta \cos \theta = 0$$

Ex. Jordklotet



$$I_0 < I \Rightarrow \frac{I_0 - I}{I} < 0$$

\downarrow
 $\approx -\frac{1}{300}$

Nu är θ så liten vinkel så att avståndet mellan axlarna i verkligheten motsvarar runt 10 m.

Vi gör därför approximationen $\cos \theta \approx 1$

Vi ser att

$$|\Omega| \approx |v| \frac{1}{\frac{1}{300} \cdot 1} \approx 300v$$

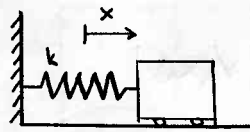
$$\frac{2\pi}{\Omega} \approx 24 \text{ h}, \quad \frac{2\pi}{v} \approx 300 \text{ dagar}$$

Obs. Figurens θ är överdriven.



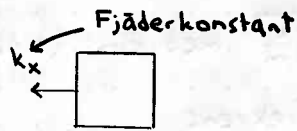
Föreläsning 10

Vibrationer

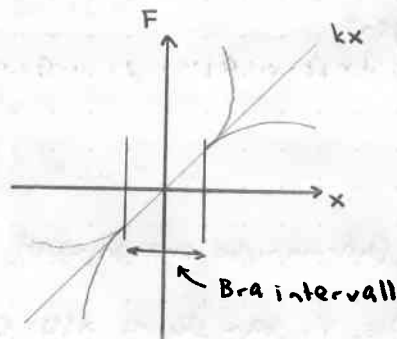


$x=0$ då fjädern är ospänd

"Hockes lag"



För att lättare kunna beräkna svängningar förenklar man problemet till att betrakta små vibrationer kring fjäderns jämviktsläge.



Grafen åskådliggör att fjäderkonstanten multiplicerad med fjäderns förlängning, ändras linjärt på ett litet intervall kring jämviktsläget. Vi idealiserar.

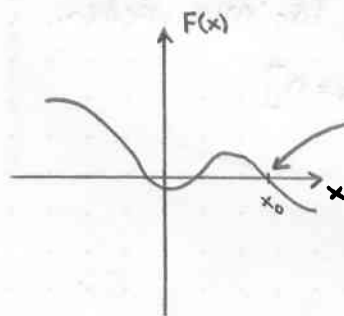
Rörelseekvation

$$m\ddot{x} = -kx$$

$$\ddot{x} + \frac{k}{m}x = 0$$

Nedan visar vi det en-dimensionella fallet för rörelse:

- stabilt jämviktsläge ($x=x_0$)



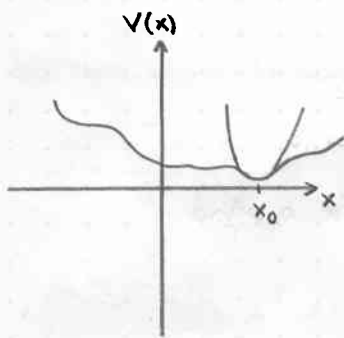
$$F(x) = 0 - k(x-x_0) + 0((x-x_0)^2) \quad \text{Taylorutveckling}$$

Om vi går tillräckligt nära $F(x)$

Vi har rörelseekvationen

$$m\ddot{x} = -k(x-x_0)$$

Linjär ekvation med analytisk lösning.



Om vi istället har en andragradskurva

$$F(x) = -\frac{dV}{dx}$$

$$V(x) = \frac{1}{2} k(x-x_0)^2 + V(x_0)$$

$$\boxed{\ddot{x} + \frac{k}{m}x = 0}$$

där $\frac{k}{m} = \omega_n^2 \Rightarrow \omega_n = \sqrt{\frac{k}{m}}$ med dim: (tid)⁻¹

kallas normal vinkelfrekvens

Att lösa denna homogena diff. ekv. görs genom den karakteristiska ekvationen $r^2 + \omega_n^2 = 0$ med lösningen $r = \pm i\omega_n$

Detta ger den allmänna lösningen:

$$x(t) = A_+ e^{i\omega_n t} + A_- e^{-i\omega_n t}$$

Vi skriver om uttrycket

$$x(t) = A \cos \omega_n t + B \sin \omega_n t \quad (\text{harmoniska svängningar}) \quad \sin(at+b)$$

$$\text{Ansats: } x(t) = e^{rt}$$

Obs. Vi kan skriva $x(t) = C \sin(\omega_n t + \psi)$

Detta är en linjär ekvation vilket ger linjärkombinerbara lösningar.

$$\dot{x} = r e^{rt}$$

$$\ddot{x} = r^2 e^{rt}$$

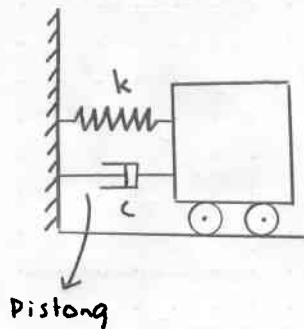
Att vi har två parametrar i lösningen \Leftrightarrow 2 begynnelsevillkor

Dimensionsfull parameter ω_n

\Rightarrow samma kvalitativa beteende för alla värden.

$$[\text{dimensionslös tid } \tau = \omega_n t \quad \frac{d^2 x}{d\tau^2} + x = 0]$$

Dämpade svängningar



När vi nu utöver fjädern även har en dämpande faktor får vi kraften

$$F = -kx - c\dot{x}$$

↓ linjär dämpkraft

Detta ger rörelseekvationen

$$m\ddot{x} = -kx - c\dot{x} \quad \text{dvs.}$$

$$\ddot{x} + \frac{c}{m}\dot{x} + \frac{k}{m}x = 0$$

↓ ω_n^2
dim: (tid)⁻¹

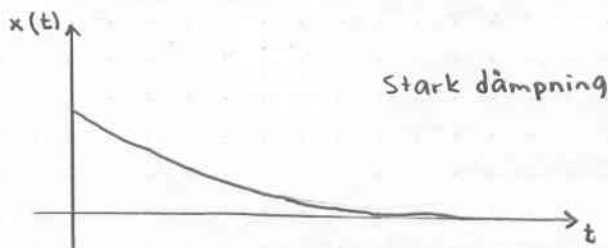

Vi byter beteckningar

$$\sqrt{\frac{k}{m}} = \omega_n$$

$$\frac{c}{m} = 2\zeta\omega_n \quad \text{där } \zeta = \frac{c}{2m\omega_n} = \frac{c}{2m}\sqrt{\frac{m}{k}} = \frac{c}{2\sqrt{mk}}$$

↓ dim.lös

För olika ζ får vi olika beteenden på svängningen.



Vi har följande differentialekvation

$$\ddot{x} + 2\zeta\omega_n\dot{x} + \omega_n^2x = 0$$

Ansats:

$$x(t) = e^{rt}$$

$$r^2 + 2\zeta\omega_n r + \omega_n^2 = 0$$

$$r = -\zeta\omega_n \pm \sqrt{\zeta^2\omega_n^2 - \omega_n^2} = \omega_n [-\zeta \pm \sqrt{\zeta^2 - 1}]$$

Vi har följande fall:

$$\text{Då } 0 \leq \zeta < 1: \zeta^2 - 1 < 0$$

$$r = \omega_n [-\zeta \pm i\sqrt{1 - \zeta^2}]$$

ger svag dämpning

$$\text{Då } \zeta > 1: \zeta^2 - 1 > 0$$

$$r = \omega_n [-\zeta \pm \sqrt{\zeta - 1}]$$

ger stark dämpning

För att betrakta situationerna bättre, sätter vi in r i den allmänna lösningen:

Vi börjar med svag dämpning:

$$x(t) = Ae^{[-\zeta + i\sqrt{1 - \zeta^2}]\omega_n t} + Be^{[-\zeta - i\sqrt{1 - \zeta^2}]\omega_n t} =$$

$$= e^{-\zeta\omega_n t} (A \cos \omega t + B \sin \omega t) \quad \text{där } \omega = \sqrt{1 - \zeta^2} \omega_n$$

Vi observerar att den svaga dämpningen är lik den odämpade.

Nu till den starkt dämpade:

$$2 \text{ reella rötter } r_{1,2} = \omega_n [-\zeta \pm \sqrt{\zeta - 1}] < 0$$

exponentiellt avtagande

$$x(t) = Ae^{-r_1 t} + Be^{-r_2 t}$$

Ex $\zeta \gg 1$:

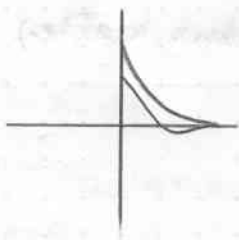
$$\frac{r_1}{\omega_n} = -\zeta + \sqrt{\zeta^2 - 1} = -\zeta \left(1 - \sqrt{1 - \frac{1}{\zeta^2}}\right) \approx -\zeta \left(1 - \left(1 - \frac{1}{2\zeta^2}\right)\right) = -\frac{1}{2\zeta} \rightarrow 0$$

$$\frac{r_2}{\omega_n} \rightarrow -\infty$$

Et speciellt fall får vi då $\zeta = 1$.

Detta kallas kritisk dämpning.

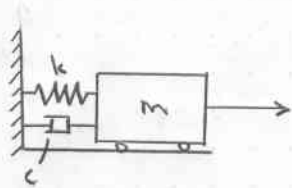
Vi har följande:



$$\Gamma_1 = \Gamma_2 = \Gamma = -\zeta \omega_n$$

$$x(t) = (A + Bt)e^{\Gamma t}$$

Föreläsning 11



$F(t) = F_0 \sin \omega t$ (Alla $F(t)$ kan skrivas som summan av sådana krafter)

Låt $c = 0$

$$m\ddot{x} = -kx + F_0 \sin \omega t$$

$$\ddot{x} + \frac{k}{m}x = \frac{F_0}{m} \sin \omega t$$

Nu får vi alltså en differentialekvation med både en homogen- och en partikulär lösning

$$x(t) = x_h(t) + x_p(t) \quad \text{där } x_h(t) \text{ är lösningen till den homogena ekv.}$$

Betrakta partikulär lösningen

$$\ddot{x} + \omega_n^2 x = \frac{F_0}{m} \sin \omega t$$

Ansats:

$$x_p(t) = A \sin \omega t \quad (|A| \text{ amplitud})$$

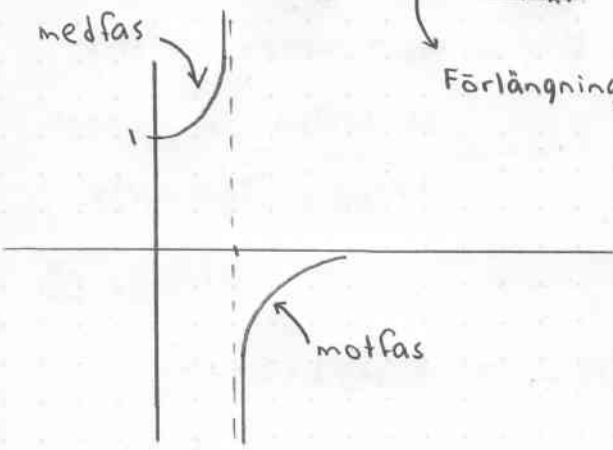
Vi får

$$(-\omega^2 A \sin \omega t + \omega_n^2 A \sin \omega t) = \frac{F_0}{m} \sin \omega t$$

$$A = \frac{F_0/m}{\omega_n^2 - \omega^2} = \frac{F_0/k}{1 - (\frac{\omega}{\omega_n})^2} = \frac{F_0}{k} \cdot \frac{1}{1 - (\frac{\omega}{\omega_n})^2}$$

Förstärkning

Förlängning vid konstant kraft F_0



Vi lägger nu till dämpning dvs $c > 0$

$$\ddot{x} + \frac{c}{m} \dot{x} + \frac{k}{m} x = \frac{F_0}{m} \sin \omega t$$

\downarrow $2\zeta\omega_n$ \downarrow ω_n^2

Vi söker partikulär lösningen

Ansätt

$$x_p(t) = A \sin(\omega t - \phi) \quad \text{där } \phi \text{ är fasförskjutningen}$$

$$\dot{x}_p(t) = A\omega \cos(\omega t - \phi)$$

$$\ddot{x}_p(t) = -A\omega^2 \sin(\omega t - \phi)$$

Insättning ger

$$-A\omega^2 \sin(\omega t - \phi) + 2\zeta\omega_n \omega A \cos(\omega t - \phi) + \omega_n^2 A \sin(\omega t - \phi) = \frac{F_0}{m} \sin(\omega t - \phi + \phi)$$

(betrakta $\sin(\underbrace{\omega t - \phi}_a + \underbrace{\phi}_b)$ som $\sin(a+b)$)

$$= \frac{F_0}{m} (\sin(\omega t - \phi) \cos \phi + \cos(\omega t - \phi) \sin \phi)$$

Delar upp ekvationen i två delar:

$$\sin: (-\omega^2 + \omega_n^2) A = \frac{F_0}{m} \cos \phi$$

$$\cos: 2\zeta\omega_n \omega A = \frac{F_0}{m} \sin \phi$$

kvadrera båda leden i ekvationerna

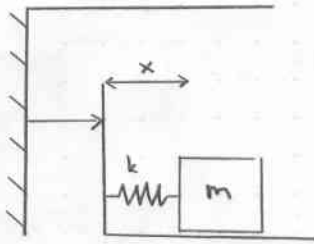
$$\begin{cases} A^2 [(\omega_n^2 - \omega^2)^2 + (2\zeta\omega_n\omega)^2] = \left(\frac{F_0}{m}\right)^2 \\ \tan \phi = \frac{2\zeta\omega_n\omega}{\omega_n^2 - \omega^2} \end{cases}$$

Amplituden A blir

$$A = \frac{F_0/k}{\sqrt{\left(1 - \frac{\omega^2}{\omega_n^2}\right)^2 + \left(\frac{2\zeta\omega}{\omega_n}\right)^2}}$$

$$\tan \phi = \frac{2\zeta \frac{\omega}{\omega_n}}{1 - \left(\frac{\omega}{\omega_n}\right)^2}$$

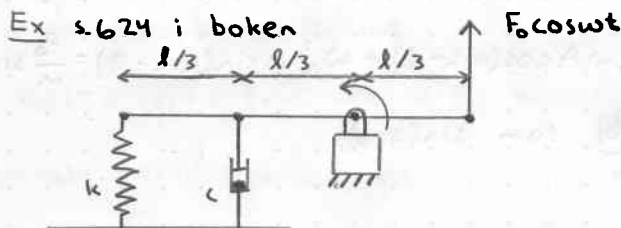
Vibrerande vägg



Nu gäller följande ekvationer

$$m(\ddot{x} + \dot{s}) = -kx$$

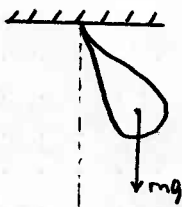
$$\ddot{x} + \frac{k}{m}x = -\dot{s} = \omega^2 s_0 \sin \omega t$$



Vi har nu

$$I\ddot{\theta} = -k\theta \cdot \frac{2l}{3} \cdot \frac{2l}{3} - c\dot{\theta} \cdot \frac{l}{3} \cdot \frac{l}{3} + F_0 \cos \omega t \cdot \frac{l}{3}$$

Ex



$$I\ddot{\theta} = mg l \sin \theta$$

$$\ddot{\theta} = \frac{mg l}{I} \sin \theta = 0 \quad \text{För små svängningar } \approx \theta$$

$$\omega_n^2 = \sqrt{\frac{mg l}{I}}$$